

AGA KHAN UNIVERSITY EXAMINATION BOARD

SECONDARY SCHOOL CERTIFICATE

CLASS IX

ANNUAL EXAMINATIONS (THEORY) 2023

Pakistan Studies Paper I

Time: 55 minutes Marks: 30

ہدایات

- 1- ہر سوال کو غور سے پڑھیے۔
- 2- جوابات کے ورق پر جوابات دیجیے جو علیحدہ مہیا کیا گیا ہے۔ اپنے جوابات، سوالات کے پرچے پر ہر گز نہ لکھیے۔
- 3- جوابات کے ورق پر 100 تک نمبر دیے گئے ہیں۔ آپ 1 سے 30 نمبر تک ہی جوابات دیجیے۔
- 4- ہر سوال کے چار انتخابات (options) A, B, C, D دیے گئے ہیں۔ ان میں سے ایک کو منتخب کیجیے۔ پھر جوابات کے صفحے میں متعلقہ دائرے کو پنسل سے بھر دیجیے جیسا کہ نیچے دکھایا گیا ہے۔

امیدوار کے دستخط

غلط طریقہ صحیح طریقہ

1	(A)	(B)	(C)	(D)
1	(A)	(B)	(C)	(D)
2	(A)	(B)	(C)	(D)
3	(A)	(B)	(C)	(D)
4	(A)	(B)	(C)	(D)

- 5- اگر آپ اپنا جواب بدلنا چاہیں تو پہلے والے جواب کو مکمل طور پر ربرٹ سے مٹا دیجیے پھر نئے دائرے کو بھریے۔
- 6- جوابات کے صفحے میں کچھ نہ لکھیے۔ کمپیوٹر صرف بھرے ہوئے دائروں کو ریکارڈ کرے گا۔

1- قوم کے درمیان اتحاد و اتفاق کو کون سا مشترکہ نظریہ مضبوط کرتا ہے؟

- A- ثقافتی اصول
- B- اخلاقی معیار
- C- مذہبی روایات
- D- طرزِ تعمیر

2- درج ذیل تمام پہلو کسی قوم میں نظریہ کی اہمیت کو ظاہر کرتے ہیں، ماسوائے

- A- طرزِ زندگی کا تعین کرنا۔
- B- راہِ نمائوں کے انتخاب میں مدد کرنا۔
- C- قوم میں انفرادیت کو پروان چڑھانا۔
- D- لوگوں میں قوم کے لیے قربانی کا جذبہ اُجاگر کرنا۔

3- ”نہ ہی ہندوؤں کو یہ خوف ہونا چاہیے کہ خود مختار مسلم ریاستوں کے قیام کا مطلب کسی قسم کی مذہبی حکمرانی کا آغاز ہو گا۔۔۔ یہ ایک ایسی ریاست ہے جس کا تصور روسو (Rousseau) سے بھی پہلے کیا گیا تھا۔ ایسی ریاست کی قوت محرکہ، ایک اخلاقی معیار ہوتا ہے جس کے مطابق انسان کوئی زمین سے جڑی ہوئی مخلوق نہیں ہے۔“

(خطبہ علامہ اقبال الہ آباد 1930)

دیا گیا بیان ہندوستان میں تصورِ ریاست کے کس بنیادی نظریے کو ظاہر کرتا ہے؟

- A- جمہوریت
- B- احتساب
- C- مذہبی آزادی
- D- ثقافتی انضمام

4- 1906 میں شملہ وفد کی کامیابی نے آل انڈیا مسلم لیگ کے قیام کے لیے راہ ہم وار کی کیوں کہ مسلمان یہ سمجھ چکے تھے کہ

- A- مغربی تعلیم اہم ہے۔
- B- اُنھیں انگریزوں کی حمایت حاصل ہے۔
- C- اُنھیں آئین میں جگہ ملی ہے۔
- D- دیگر اقلیتی برادریوں کے ان کے حوالے سے منفی ارادے ہیں۔

5- 1906 میں آل انڈیا مسلم لیگ قائم کرنے کا بنیادی مقصد کیا تھا؟

- A انگریزوں کا فرماں بردار بننا
- B دو قومی نظریہ کو برقرار رکھنا
- C مسلمانوں کے لیے علیحدہ ملک بنانا
- D برصغیر میں روزگار کے یکساں مواقع کا مطالبہ کرنا

6- 1939 میں یوم نجات منانے کا مقصد کیا تھا؟

- A قرارداد پاکستان کا جشن منانا
- B کانگریسی حکومت کے خاتمے کا جشن منانا
- C ہندوؤں کی بنائی ہوئی مصنوعات کا بائیکاٹ کرنا
- D مسلمانوں کے مطالبات کو حکومت تک پہنچانا

7- آزادی کے فوراً بعد پاکستان کو کئی سنگین انتظامی مسائل کا سامنا کرنا پڑا جس کے سبب مشرقی پاکستان علیحدہ ہو گیا۔

مذکورہ بالا مسئلہ سے بچا جاسکتا تھا، اگر

- A پاکستان کی فوج مضبوط ہوتی۔
- B اردو کو مشرقی پاکستان کی قومی زبان بنایا جاتا۔
- C مشرقی پاکستان کو حکومت میں جائز نمائندگی دی جاتی۔
- D مشرقی پاکستان کے لوگوں کو مشرقی پاکستان میں ہی نوکریاں دی جاتیں۔

8- بھارت نے کس بنیاد پر ریاستِ جونا گڑھ پر قبضہ کیا تھا؟

- A عوام کی خواہش پر
- B قدرتی سرحدوں کی بنا پر
- C حکمران کی مرضی پر
- D اکثریتی آبادی کے مذہب کی بنیاد پر

9- 3 جون 1947 کے منصوبے کے مطابق، نئی بننے والی ریاستوں نے کس قانون کے تحت ریاستی امور چلانے تھے؟

A- 1927 کی سائمن کمیشن کی رپورٹ

B- 1932 کا وائٹ پیپر

C- حکومت ہند کا 1935 کا ایکٹ

D- 1947 کی آزادی کا ایکٹ

10- پاکستان میں قومی زبان سے متعلق مسئلے کو حل کرنے کے لیے کون سی زبان شریک قومی زبان قرار پائی؟

A- اردو

B- سندھی

C- انگریزی

D- بنگالی

11- سندھ طاس معاہدے کے مطابق، دریائے سندھ کے علاوہ وہ کون سے دو دریا ہیں جن کے استعمال کا حق پاکستان کو ملا ہے؟

A- راوی اور بیاس

B- راوی اور جہلم

C- بیاس اور چناب

D- چناب اور جہلم

12- 1940 کی قرارداد پاکستان کو برصغیر کے مسلمانوں کی تاریخ میں ایک اہم موڑ سمجھا جاتا ہے، کیوں کہ اس قرارداد میں

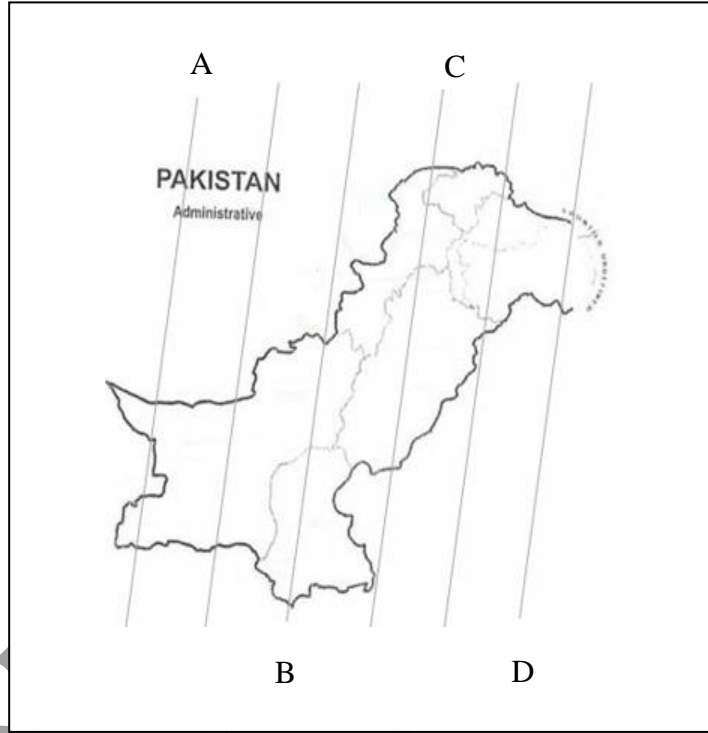
A- متحدہ ہندوستان کے تصور کو تسلیم کیا گیا تھا۔

B- صوبائی خود مختاری کا مطالبہ کیا گیا تھا۔

C- اقلیتوں کے حقوق کا تحفظ کیا گیا تھا۔

D- ایک علیحدہ ریاست کا مطالبہ کیا گیا تھا۔

13- دیے گئے پاکستان کے نقشے میں $61^{\circ}E$ طول البلد کی نشان دہی کیجیے۔



14- دیے گئے پاکستان کے نقشے میں 'X' کی علامت کون سے ہم سایہ ملک کو ظاہر کر رہی ہے؟



- A افغانستان
- B چین
- C بھارت
- D ایران

براہ کرم صفحہ پلٹیے

15- دریا کا پانی پاکستان کی معاشی ترقی میں اہم کردار ادا کرتا ہے۔

مذکورہ بالا معاشی ترقی پانی کو خاص طور پر کہاں استعمال کرنے سے حاصل ہوتی ہے؟

A- ماہی گیری

B- آب پاشی

C- گھریلو استعمال

D- آمدورفت

16- مغربی ہوائیں بحیرہ روم کے خطے سے شروع ہو کر ایران اور افغانستان کے راستے پاکستان میں داخل ہوتی ہیں۔

مذکورہ بالا صورتِ حال کے نتیجے میں، پاکستان میں ان ہواؤں سے کون سے صوبے میں زیادہ بارش ہوتی ہے؟

A- سندھ

B- پنجاب

C- بلوچستان

D- خیبر پختونخواہ

17- اُسامہ پاکستان کے ایک ایسے صوبے میں رہتا ہے جہاں مئی کے وسط سے ستمبر کے وسط تک گرم اور گرد آلود ہوائیں چلتی ہیں، جب کہ یہاں بارش صرف موسمِ سرما میں ہوتی ہے۔

دی گئی معلومات کے پیشِ نظر، اُسامہ کا گاؤں کون سے موسمیاتی زون میں آتا ہے؟

A- خشک (arid)

B- ساحلی (coastal)

C- بالائی (highland)

D- نیم خشک (semi-arid)

18- وہ کون سا انسانی عمل ہے جس نے بنیادی طور پر آب و ہوا کے قدرتی ضابطے میں خلل ڈالا؟

A- دیہات سے شہر کی طرف رخ (urbanisation)

B- جنگل کا کٹاؤ (deforestation)

C- صنعت کاری (industrialisation)

D- زرعی سرگرمیاں (agricultural practices)

19- درج ذیل میں سے زمینی آلودگی کا سبب کیا ہے؟

- A کان کنی (mining)
- B آئل اسپیل (oil spill)
- C ٹریفک جام (traffic jam)
- D آب پاشی کے غیر موثر طریقوں کا استعمال (improper irrigation practices)

20- پاکستان کا شمار عالمی حدت (global warming) سے بُری طرح متاثر ہونے والے ممالک میں ہونے کی وجہ کیا ہے؟

- A زمینی خدوخال (topography)
- B جغرافیائی محل وقوع (geographical location)
- C بحیرہ عرب میں پیدا ہونے والے آبی بخارات (water vapours created in Arabian sea)
- D مغربی ہواؤں (western depressions) کی وجہ سے زیادہ ہوائیں موصول ہونا

21- پاکستان کے شمال-مشرقی علاقوں میں لوگ کھانا پکانے کے لیے درخت کاٹتے ہیں جس سے وہاں کے درجہ حرارت میں اضافہ ہوا ہے۔

مذکورہ بالا صورتِ حال کے پیشِ نظر، حکومت کو بڑھتے ہوئے درجہ حرارت کے اثرات کو کم کرنے کے لیے کون سا اہم قدم اٹھانا چاہیے؟

- A ہر جگہ فارسٹ افسران کو مقرر کرے
- B علاقے کے لوگوں کے لیے قدرتی گیس کی فراہمی کو یقینی بنائے
- C جنگلات کے کٹے ہوئے علاقے کو آب پاشی کی سہولیات فراہم کرے
- D جنگلات کی کٹائی اور لکڑی کے استعمال سے متعلق قوانین بنائے

22- پاکستان کے کس صوبے میں سنگ مرمر (ماربل) کے پتھر کے ذخائر کم پائے جاتے ہیں؟

- A سندھ
- B پنجاب
- C بلوچستان
- D خیبر پختونخواہ

23- چونے کا پتھر پاکستان کی معاشی سرگرمیوں کے لیے ایک اہم معدن (mineral) ہے، کیوں کہ یہ ایک خام مال ہے۔

مذکورہ بالا معلومات کی روشنی میں بتائیے کہ چونے کا پتھر کس کی تیاری میں اہم خام مال کی حیثیت رکھتا ہے؟

-A اسٹیل

-B سیمنٹ

-C موٹر گاڑیوں

-D آلاتِ جراحی

24- پاکستان کے جغرافیائی اور معاشی حالات کے تناظر میں سب سے زیادہ مناسب اور قابل تجدید توانائی (renewable energy) کا ذریعہ کیا ہو سکتا ہے؟

-A بائیو ماس (biomass)

-B حرکی توانائی (wind energy)

-C شمسی توانائی (solar energy)

-D نیوکلئائی توانائی (nuclear energy)

25- درج ذیل میں سے وہ کون سی فصلیں ہیں جنہیں بوائی کے وقت 10 سے 15 سینٹی گریڈ اور کٹائی کے وقت 25 سے 30 سینٹی گریڈ درجہ حرارت درکار ہوتا ہے؟

-A گندم اور چاول

-B روئی اور گندم

-C چاول اور گنا

-D روئی اور گنا

26- سمینہ ایک مویشی فارم بنانا چاہتی ہے۔ ان کے پاس فارم کے حوالے سے بہت سارے نقشے (design) ہیں، لیکن اسے اپنے مالی تخمینے، پانی کی دست یابی اور علاقے کے درجہ حرارت کو مد نظر رکھنے کی ضرورت ہے۔

دی گئی صورتِ حال کے تناظر میں، سمینہ کس انسانی عنصر (human factor) پر غور کر رہی ہے؟

-A مویشی

-B پانی

-C بجٹ

-D درجہ حرارت

27- معاشی تنگ دستی کی وجہ سے پاکستان میں کسان فصل کاشت کرنے کے لیے قدیم اور روایتی طریقے استعمال کرتے ہیں۔ وہ کھیتی باڑی کے جدید طریقے استعمال نہیں کرتے، جس کے نتیجے میں زیر کاشت رقبے کا استعمال کم ہوتا ہے۔

مذکورہ بالا مسئلے کے موثر حل کے لیے حکومت کو کیا کرنا چاہیے؟

A- کسانوں کو آسان شرائط پر قرض فراہم کرے

B- کسانوں کو ٹیکس میں رعایت دے

C- کاشت کاری میں مشینری کو متعارف کروائے

D- زراعت پر مبنی صنعت کو فروغ دے (agro-based industry)

28- احمر کو ایسی زمین وراثت میں ملی ہے جس کی سطح پر نمک کی موجودگی کے سبب کاشت کے قابل نہیں ہے۔ احمر اس زمین کو دوبارہ قابل کاشت بنانا چاہتا ہے۔

دی گئی صورت حال کے تناظر میں، آپ احمر کو کیا تجویز دیں گے؟

A- سفیدے کے درخت لگائے (eucalyptus plants)

B- زمین کے نمک زدہ حصے میں چونے کا استعمال کرے

C- اپنی فارم پر ٹیوب ویل لگائے

D- زمین پر ٹریکٹر کی مدد سے ہل چلائے

29- پاکستان میں نقدی فصلیں کاشت کرنے کی بنیادی وجہ کیا ہے؟


A- منافع کمانا

B- خاندانی ضروریات کو پورا کرنا

C- ملک کی غذائی ضروریات کو پورا کرنا

D- زرعی زمین کی نمکیاتی ضروریات کو پورا کرنا


30- دیے گئے جنگلات میں سے کون سا جنگل پاکستان کے شمالی علاقہ جات میں پایا جاتا ہے؟



A



B



C



D

Annual
Teaching

Please use this page for rough work

AKU-EB
Annual Examination 2023 for
Teaching and Learning only

Please use this page for rough work

AKU-EB
Annual Examination 2023 for
Teaching and Learning only